

# 2026(令和 8)年度入学試験問題

## 社 会

(注意) 解答はすべて解答用紙に記入しなさい。

盈 進 中 学 校

**1** 次の各問いに答えなさい。

問1 経度の基準となった旧グリニッジ天文台がある国はどこですか。次のア～エのうちから一つ選び、記号で答えなさい。

ア ドイツ      イ イギリス      ウ フランス      エ アメリカ合衆国

問2 東北地方と四国地方で県名と県庁所在地名がちがう県の組み合わせとして、正しいものはどれですか。次のア～エのうちから一つ選び、記号で答えなさい。

ア 宮城県－高知県      イ 山形県－愛媛県  
ウ 青森県－徳島県      エ 岩手県－香川県

問3 日本の<sup>せんかく</sup>尖閣諸島は何という海にありますか。次のア～エのうちから一つ選び、記号で答えなさい。

ア 日本海      イ インド洋      ウ 東シナ海      エ オホーツク海

問4 次の文は、日本の各気候について説明したものです。中央高地の気候にあてはまるものはどれですか。下のア～エのうちから一つ選び、記号で答えなさい。

ア 夏の気温は高い。冬は雪や雨が多く降る。  
イ 夏は気温が高く雨が多い。冬もあたたかい。  
ウ 夏と冬の気温差が大きい。1年を通じて降水量が少ない。  
エ 冬が長く寒さが厳しい。降水量はほかの地域より少ない。

問5 次の表は、みかん、りんご、ももの生産量の上位5都道府県名と全国に占める割合を示したものです。みかん、りんご、ももとA～Cとの組み合わせとして、正しいものはどれですか。あとのア～カのうちから一つ選び、記号で答えなさい。

	A		B		C	
1位	青森	62.0%	山梨	30.5%	和歌山	21.1%
2位	長野	17.7%	福島	26.0%	愛媛	16.3%
3位	岩手	5.2%	長野	8.8%	静岡	14.6%
4位	山形	5.0%	山形	8.0%	熊本	11.8%
5位	福島	3.1%	和歌山	6.6%	長崎	6.4%

(『日本国勢図会 2025/26年版』より)

	A	B	C
ア	みかん	りんご	もも
イ	みかん	もも	りんご
ウ	りんご	みかん	もも
エ	りんご	もも	みかん
オ	もも	みかん	りんご
カ	もも	りんご	みかん

問6 次の文は、高原野菜の栽培<sup>さいばい</sup>について説明したものです。文中の A ～ C にあてはまる語句の組み合わせとして、正しいものはどれですか。下の **ア～エ** のうちから一つ選び、記号で答えなさい。

長野県や群馬県の高原では A 気候を利用して、春の野菜を B し、冬の野菜を C して、夏から秋にかけて収穫します。ほかの産地の出荷が少ないので高く売れるからです。

- ア** A. 夏のすずしい      B. 抑制栽培<sup>よくせい</sup>      C. 促成栽培<sup>そくせい</sup>  
**イ** A. 夏のすずしい      B. 促成栽培      C. 抑制栽培  
**ウ** A. 冬の寒い      B. 抑制栽培      C. 促成栽培  
**エ** A. 冬の寒い      B. 促成栽培      C. 抑制栽培

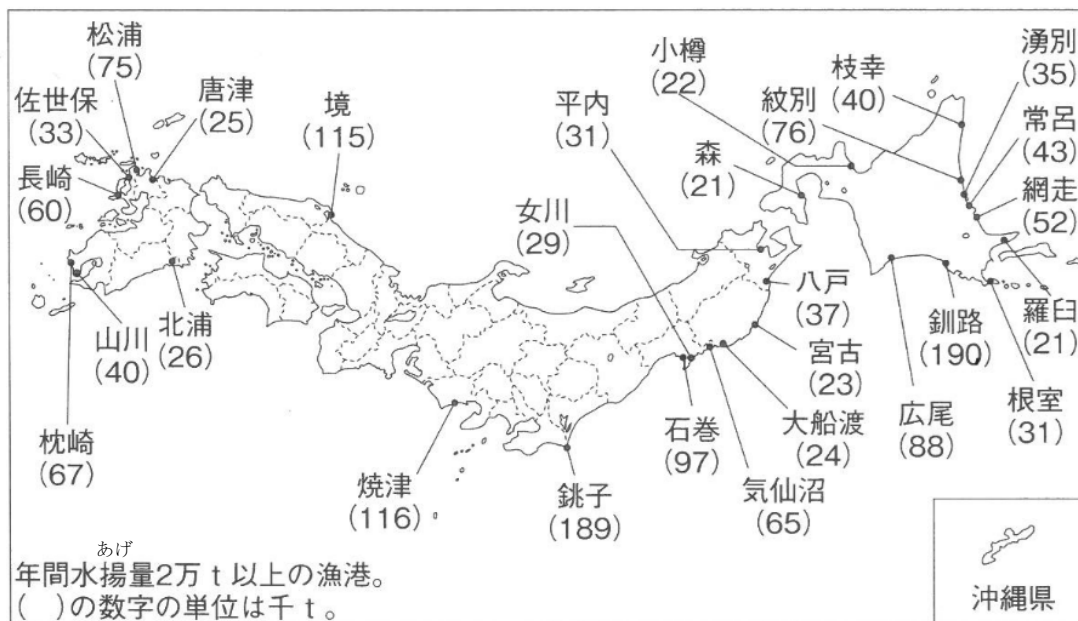
問7 次の表は、肉牛、乳牛、豚、にわとり（たまご用）の頭数（羽数）の上位4都道府県名と全国にしめる割合を示したものです。にわとり（たまご用）にあてはまるものはどれですか。下の表中の **ア～エ** のうちから一つ選び、記号で答えなさい。

	ア		イ		ウ		エ	
1位	鹿児島	13.6%	千葉	8.4%	北海道	62.6%	北海道	20.9%
2位	北海道	8.5%	茨城	7.2%	栃木	4.0%	鹿児島	13.6%
3位	宮崎	8.2%	鹿児島	6.0%	熊本	3.3%	宮崎	9.7%
4位	群馬	6.9%	岡山	6.0%	岩手	3.0%	熊本	5.0%

（『日本国勢図会 2025/26年版』より）

問8 日本の近海に広がる水深200メートルぐらいの浅い海域で、ゆるやかなかたむきのある海底を何といいますか。

問 9 次の地図は、主な漁港の水あげ量を示したものです。この地図からわかることで、正しいものはどれですか。下のア～エのうちから一つ選び、記号で答えなさい。



(『日本国勢図会 2025/26年版』より)

- ア 中国地方には、水あげ量が5万t以上の漁港がない。
- イ 水あげ量の多い漁港は、日本海側よりも太平洋側に多い。
- ウ 水あげ量が最も多い漁港は、静岡県にある。
- エ 近畿地方には、水あげ量が5万t以上の漁港がある。

問 10 食品ロスについて説明した文のうち、正しいものはどれですか。次のア～エのうちから一つ選び、記号で答えなさい。

- ア 米の値段が高くなり買えなくなること。
- イ 海外からの食料の輸入が減っていること。
- ウ 日本食の人气が高まり食材が不足すること。
- エ まだ食べられるにもかかわらず食料が捨てられること。

問 11 木や草、生ごみなどを燃やすことで電気を生み出す、環境にやさしい発電方法を〇〇〇〇〇発電といいます。〇に入る語句をカタカナで答えなさい。 ※一つの〇には、カタカナ一文字が入ります。

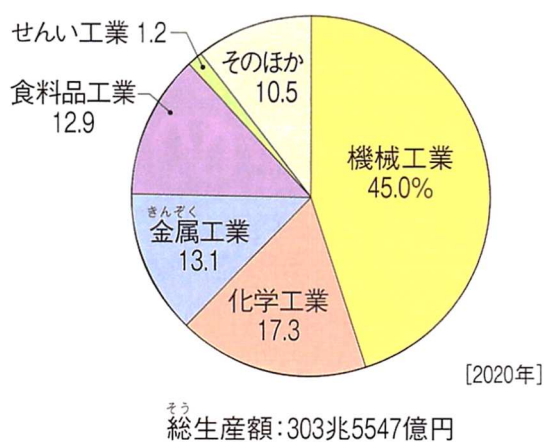
問 12 原子力発電所、火力発電所について、二つの発電所に共通するものはどれですか。次のア～エのうちから一つ選び、記号で答えなさい。

- ア 発電するときに二酸化炭素をたくさん出す。
- イ 使用する燃料は、使い続けてもなくなることはない。
- ウ 燃料は輸入にたよっている。
- エ 発電所が事故を起こすと、放射性物質による汚染を引き起こすおそれがある。

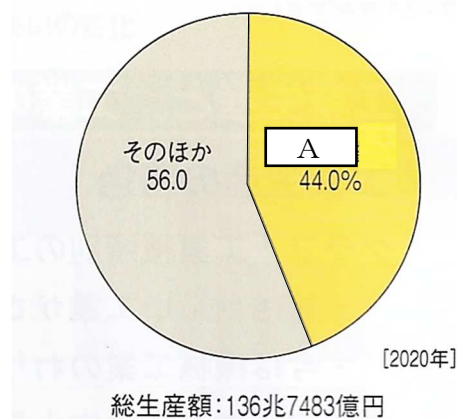
問 13 日本各地に伝わる伝統工芸について説明した文のうち、正しいものはどれですか。次のア～エのうちから一つ選び、記号で答えなさい。

- ア 昔から伝わる技術を使って、主に手づくりで工芸品がつくられている。
- イ 最先たんの機械を使って、すべての工芸品がつくられるようになった。
- ウ A I のふきゅうにより、職人になるための訓練がなくなった。
- エ 工芸品が多く地域でつくられるようになり、職人になりたい若い人が以前より増えた。

問 14 次のグラフは、工業種類別の生産額の割合と機械工業の生産額にしめる  の割合です。自動車工業などがふくまれる  にあてはまるものはどれですか。下のア～エのうちから一つ選び、記号で答えなさい。



工業種類別の生産額の割合



機械工業の生産額にしめる  の割合

(経済センサス活動調査 2020 年より)

- ア 生産用機械
- イ 業務用機械
- ウ 輸送用機械
- エ 精密機械

2 次の各問いに答えなさい。

問1 次の表は、福山市のごみの分別表とある地域の家庭ごみの収集日程表です。2026年1月14日に収集されるごみとして、正しいものはどれですか。下のア～エのうちから一つ選び、記号で答えなさい。

分別区分	ごみの例			
燃やせるごみ	生ごみ	革・ゴム製品類	紙・布類	プラスチック製の商品
容器包装プラスチックごみ	※このマークがついているもの			ペットボトル
紙類	新聞・チラシ	雑誌・本	段ボール	トレイ
資源ごみ	ガラスびん類	缶類	ストーブ ファンヒーター類	金属類
不燃(破碎)ごみ	家電製品	ガラス類	陶磁器類	自転車など
燃やせる粗大ごみ	木製家具	寝具類		
蛍光灯・使用済乾電池 充電式電池・ビデオテープ類・ ライター類	蛍光灯	使用済乾電池	充電式電池	ビデオテープ類 ライター類
市で 収集しないもの	土・砂など	エレクトーンなど	一時多量ごみ	処理困難物
	家電リサイクル など			

2026年 1月 JANUARY

日 Sun	月 Mon	火 Tue	水 Wed	木 Thu	金 Fri	土 Sat
				祝日 1	2	3
4	可燃 5	6	紙類 7	可燃 8	プラ 9	10
11	可燃 12	13	資源 14	可燃 15	プラ 16	17
18	可燃 19	20	不燃 21	可燃 22	プラ 23	24
25	可燃 26	27	資源 28	可燃 29	プラ 30	31

可燃:燃やせるごみ プラ:容器包装プラスチックごみ 資源:資源ごみ 不燃:不燃(破碎)ごみ

(福山市ホームページより)

ア 缶類      イ 雑誌・本      ウ 生ごみ      エ 家電製品

**ご存知ですか?「3つのR」**  
 できることから実践していきましょう!

## Reduce リデュース

マイはし、マイバッグ、マイボトル、  
風呂敷を使いましょう!




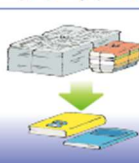
## Reuse リユース

一升びんやビールびんなどの再利用できる  
びんなどは販売店に返却しましょう!



## Recycle リサイクル

C



	A	B	C
ア	ごみを減らしましょう	くり返し使いましょう	正しく分別しましょう
イ	ごみを減らしましょう	正しく分別しましょう	くり返し使いましょう
ウ	くり返し使いましょう	ごみを減らしましょう	正しく分別しましょう
エ	くり返し使いましょう	正しく分別しましょう	ごみを減らしましょう
オ	正しく分別しましょう	ごみを減らしましょう	くり返し使いましょう
カ	正しく分別しましょう	くり返し使いましょう	ごみを減らしましょう



- 6 -

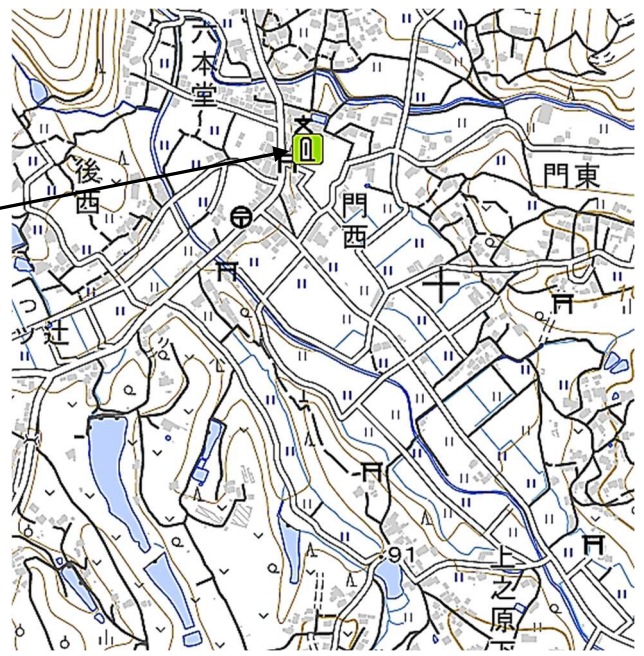


問4 次の〔地図1〕は、福山市にある<sup>しぜんさいがいでんしょうひ</sup>自然災害伝承碑の位置を示したものです。〔地図2〕は、この碑のある地域を拡大したものです。この自然災害伝承碑はどのような災害を伝えるものですか。下のア～エのうちから一つ選び、記号で答えなさい。

〔地図1〕



〔地図2〕



- ア 台風による高潮                      イ <sup>けっかい</sup>ため池の決壊による洪水  
ウ 火山活動による火山灰            エ 地震による津波

問5 次の文は、ゲリラ豪雨<sup>ごうう</sup>について説明したものです。文中の□A・□Bにあてはまる語句の組み合わせとして、正しいものはどれですか。下のア～エのうちから一つ選び、記号で答えなさい。

ゲリラ豪雨とは、激しい雨が□A、□B<sup>はんい</sup>範囲に降ることです。最近<sup>ひが</sup>は全国各地で大きな被害をもたらしています。もともとゲリラ豪雨という言葉はマスコミが使ったことから広まり、気象庁では集中豪雨という言い方をしています。

- ア A. 何日間も      B. 広い                      イ A. 何日間も      B. せまい  
ウ A. 短時間に      B. 広い                      エ A. 短時間に      B. せまい

問6 インターネットを利用した際のさまざまな問題について説明した文のうち、誤っているものはどれですか。次のア～エのうちから一つ選び、記号で答えなさい。

- ア 犯罪に巻きこまれないために、メディアリテラシーを身につけることが大切である。  
イ SNS上にある画像は信用できないが、動画の情報はすべて信用できる。  
ウ SNS上に友だちの写真を無断で公開することは、<sup>しょうざうけん</sup>肖像権の侵害にあたる。  
エ フェイクニュース（事実でない情報）が広がることもある。



**3** 次のA～Eの文章や年表を読んで、あとの各問いに答えなさい。

A 佐賀県にある（ ① ）遺跡は、1～3世紀ごろの弥生時代後期の遺跡です。②集落の周りには大きな二重の堀や柵で囲まれていました。むらの指導者は、強い力でむらを支配する豪族になりました。豪族の中には、周辺のむらを従えて③くにをつくり、王と呼ばれる者も出てきました。また、（①）遺跡からは、大陸から伝わった鉄器・青銅器などが出土しています。

問1 （ ① ）にあてはまる語句を、次のア～エのうちから一つ選び、記号で答えなさい。

ア 登呂                  イ 大森                  ウ 板付                  エ 吉野ケ里

問2 下線部②について、このような集落がつくられた理由としてもっとも適当なものを、次のア～エのうちから一つ選び、記号で答えなさい。

ア むらとむらとの争いが起こるようになったから。  
イ 大王の支配が全国的に広まったから。  
ウ 大陸の国から攻められるのを恐れたから。  
エ 大陸の技術を積極的に取り入れたから。

問3 下線部③について、中国で書かれた歴史の本には、「倭（日本）では、いちばん勢いの強い（ X ）が 30 ほどのくにを従えている。倭は、もとは男の王が治めていたが、争いがたえなかった。そこで、くにぐにが相談し女王（ Y ）を倭の王に立てると、争いが終わって平和になった。」という記述があります。設問中の（X）・（Y）にあてはまる語句の組み合わせとして正しいものはどれですか。次のア～エのうちから一つ選び、記号で答えなさい。

ア X. 邪馬台国                  Y. ワカタケル                  イ X. 邪馬台国                  Y. 卑弥呼  
ウ X. 奴国                  Y. 卑弥呼                  エ X. 奴国                  Y. ワカタケル

B 聖武天皇の生がい

年	年齢	主なできごと
701 年	1 歳	文武天皇の子として生まれる
710 年	10 歳	都が（ ④ ）京（奈良県）に移される
724 年	24 歳	天皇の位につく
737 年	37 歳	このころ都で伝染病が流行する
740 年	40 歳	貴族の反乱がおこる／都を恭仁京（京都府）に移す
741 年	41 歳	⑤国分寺を建てる 詔（命令）を出す
743 年	43 歳	⑥大仏をつくる詔（命令）を出す
744 年	44 歳	都を難波宮（大阪府）に移す／都を紫香楽宮（滋賀県）に移す
745 年	45 歳	都を（④）京にもどす
749 年	49 歳	天皇の位を退く
752 年	52 歳	大仏の開眼式をおこなう
756 年	56 歳	亡くなる

問4 （ ④ ）にあてはまる都はどれですか。次のア～エのうちから一つ選び、記号で答えなさい。

ア 平城                  イ 藤原                  ウ 長岡                  エ 平安

問5 下線部⑤・⑥について、聖武天皇によってこれらの詔（命令）が出された理由は何ですか。年表中のことばを使って説明しなさい。

問6 下線部⑥について、大仏づくりに協力し、人々のために池や水路などをつくりながら仏教を広めたことから、「菩薩」とよばれた僧はだれですか。次のア～エのうちから一つ選び、記号で答えなさい。

ア 鑑真                  イ 雪舟                  ウ 行基                  エ 紫式部

C 昨年（2025 年）のNHK大河ドラマ『べらぼう～<sup>つたじゅうえいがのゆめばなし</sup>』は、江戸時代中期の田沼意次<sup>たぬまおきつぐ</sup>の時代から寛政<sup>かんせい</sup>の改革をおこなった松平定信<sup>はなもと</sup>の時代にかけて活躍し、版元（現在の出版社）として⑦<sup>うきよえし</sup>浮世絵師の喜多川歌麿<sup>きたがわうたまろ</sup>や東洲斎写楽<sup>とうしゅうさいしやらく</sup>らを見出した江戸のメディア王<sup>つたやじゅうざぶろう</sup>鳥屋重三郎<sup>はらんばんじょう</sup>の波乱万丈な生涯を描いた作品です。このころヨーロッパの学問を研究する（ ⑧ ）が盛んになりました。⑨<sup>しやうがい</sup>医学をはじめ、地理学や天文学、兵学などの新しい知識や技術を日本に役立てようとする人々が現れました。

問7 下線部⑦について、江戸から京都までの風景を描いた『東海道五十三次<sup>とうかいどうごじゅうさんづぎ</sup>』を完成させた浮世絵師はだれですか。次のア～エのうちから一つ選び、記号で答えなさい。

ア 歌川広重                  イ 近松門左衛門                  ウ 本居宣長<sup>もとりのりなが</sup>                  エ 松尾芭蕉<sup>まつおばしょう</sup>

問 8 ( ⑧ ) にあてはまる学問は何ですか。次のア～エのうちから一つ選び、記号で答えなさい。

ア 国学                      イ 朱子学                      ウ 蘭学                      エ 陽明学

問 9 下線部⑨について、杉田玄白が翻訳した書物として、正しいものはどれですか。次のア～エのうちから一つ選び、記号で答えなさい。

ア 『学問のすすめ』                      イ 『解体新書』                      ウ 『古事記伝』                      エ 『万葉集』

#### D 戦前戦中のできごと

年	月	主なできごと
1931 年	9 月	満州事変…満州にいた日本軍が中国軍を攻撃する
1932 年	3 月	満州国の建国…中国から満州を切りはなす
	5 月	五・一五事件が起こる…軍人が総理大臣らを殺害する
1933 年	2 月	満州国の独立が国際 ( ⑩ ) で不承認となる
	3 月	日本は国際 ( ⑩ ) を脱退する
1936 年	2 月	二・二六事件が起こる…軍人が大臣らを殺害する
1937 年	7 月	日中戦争が始まる…ペキン郊外で日本軍と中国軍が衝突する
1938 年	3 月	国家総動員法…国民や物資のすべてを統制できる法律ができる
1939 年	9 月	第二次世界大戦が始まる
1941 年	12 月	太平洋戦争が始まる…日本軍がハワイの真珠湾を攻撃する ※米が ( ⑪ ) 制となる
1942 年	6 月	ミッドウェー海戦に敗れる
1944 年	7 月	サイパン島の日本軍守備隊が全滅する ※小学生の集団疎開が始まる
⑫1945 年	8 月	ポツダム宣言を受け入れて無条件降伏する

問 10 ( ⑩ ) ・ ( ⑪ ) にあてはまる語句は何ですか。それぞれ答えなさい。

問 11 下線部⑫について、1945 年のできごととして誤っているものはどれですか。次のア～エのうちから一つ選び、記号で答えなさい。

ア ドイツは、アメリカ・イギリスなどの連合軍に降伏した。  
 イ ソ連が、日本と戦わないという条約をやぶり満州や千島列島に侵攻してきた。  
 ウ アメリカ軍は、人類史上初の原子爆弾を広島と長崎に投下した。  
 エ 日本で、大学生が戦場に行く学徒出陣がはじまった。

E 戦後、日本政府はアメリカを中心とする連合国軍の指導により、民主主義国家として再出発するために、⑬戦後改革と呼ばれる多くの改革を行いました。その後、政府は貿易の拡大や輸出の増加にも力を入れ、1968年には、国民総生産が（ ⑭ ）に次いで世界第2位になりました。1980年代後半には、土地などの価格が本来の価値よりも急激に高くなる（ ⑮ ）経済となりましたが、1990年代以降は不景気が長く続くこととなりました。

問 12 下線部⑬について、戦後改革として誤っているものはどれですか。次のア～エのうちから一つ選び、記号で答えなさい。

ア 学校教育では、小学校6年間、中学校3年間の9年間が義務教育となった。

イ ほとんどの農民が、農地を持てるようになった。

ウ 日本国憲法にかわって、大日本帝国憲法が公布・施行された。

エ 女性に選挙権をあたえる法律がつくられた。

問 13 （ ⑭ ） ・ （ ⑮ ） にあてはまる語句は何ですか。それぞれ答えなさい。

**4** 次の各問いに答えなさい。

問1 縄文時代じょうもんの三内丸山遺跡さんないまるやまについて説明した次の①・②の正誤の組み合わせとして、正しいものはどれですか。下のア～エのうちから一つ選び、記号で答えなさい。

- ① 木の皮を編んでつくった入れ物が出土している。  
 ② 豊かな自然のめぐみをいのるために、はにわという人形がつくられた。

	ア	イ	ウ	エ
①	正	正	誤	誤
②	正	誤	正	誤

問2 古墳時代こふんについて説明した次の①・②の正誤の組み合わせとして、正しいものはどれですか。下のア～エのうちから一つ選び、記号で答えなさい。

- ① 古墳がつくられはじめたころ、中国や朝鮮半島での争いをのがれ日本に移り住んだ渡来人とらいじんによって、水墨画すいぼくがの技術が大陸から伝えられた。  
 ② 5世紀後半の大和朝廷やまとちやうていの大王だった人物の名前が刻まれた刀剣とうけんが、熊本県や埼玉県とうけんの古墳で見つかっており、大和朝廷の勢力の広がりがわかる。

	ア	イ	ウ	エ
①	正	正	誤	誤
②	正	誤	正	誤

問3 平安時代、貴族のくらはは年中行事が中心でした。現在でもいろいろな年中行事が行われています。次の①～③を1年のうち早いものから順に並びかえたものとして、正しいものはどれですか。下のア～カのうちから一つ選び、記号で答えなさい。

- ① お盆ぼん…なくなった祖先の霊れいをむかえ、供養する。  
 ② 端午たんごの節句…男子の健やかな成長を願う。  
 ③ 桃の節句…女子の健やかな成長を願う。

ア ① → ② → ③      イ ① → ③ → ②      ウ ② → ① → ③  
 エ ② → ③ → ①      オ ③ → ① → ②      カ ③ → ② → ①

問4 戦国時代について説明した次の①・②の正誤の組み合わせとして、正しいものはどれですか。  
下のア～エのうちから一つ選び、記号で答えなさい。

- ① フランシスコ・ザビエルは、対馬<sup>つしま</sup>に上陸しキリスト教を伝えた。  
② 天下統一を進めていた織田信長は、鉄砲隊<sup>てっぽうたい</sup>を並べた武田軍を破った。

	ア	イ	ウ	エ
①	正	正	誤	誤
②	正	誤	正	誤

問5 次の①～③の平成から令和の出来事を古いものから順に正しく並びかえたものはどれですか。下のア～カのうちから一つ選び、記号で答えなさい。

- ① 東日本大震災<sup>だいしんさい</sup>では、地震により津波が発生し、太平洋沿岸に大きな被害をもたらした。  
② 新型コロナウイルス感染症<sup>かんせんしょう</sup>が拡大し、世界的な流行となった。  
③ 阪神淡路大震災<sup>はんしんあわじ</sup>が発生し、6400人以上が亡くなった。

ア ① → ② → ③      イ ① → ③ → ②      ウ ② → ① → ③  
エ ② → ③ → ①      オ ③ → ① → ②      カ ③ → ② → ①



**5** 次の文章を読んで、[ 1 ]・[ 2 ] にあてはまる語句の組み合わせとして、正しいものはどれですか。下のア～エのうちから一つ選び、記号で答えなさい。

問1 2025年4月2日、米国の[ 1 ]大統領は「相互[ 2 ]」を導入するための大統領令に署名しました。「全ての国・地域に対して一律10%の[ 2 ]を設定し、相手国・地域が独自に採用する規制などの非[ 2 ]障壁しょうへきに応じて税率を上乗せする」としています。

- |   |          |         |
|---|----------|---------|
| ア | [1] バイデン | [2] 関税  |
| イ | [1] バイデン | [2] 消費税 |
| ウ | [1] トランプ | [2] 関税  |
| エ | [1] トランプ | [2] 消費税 |

問2 2025年5月21日、江藤拓農林水産大臣えとうたくの辞任に伴い、[ 1 ]元環境大臣が新農林水産大臣に就任しました。同日の就任会見で「[ 2 ]を安定した価格で供給できるよう全力で取り組む」と強調しました。

- |   |                                    |       |
|---|------------------------------------|-------|
| ア | [1] 小泉進次郎 <small>こいずみしんじろう</small> | [2] 塩 |
| イ | [1] 小泉進次郎                          | [2] 米 |
| ウ | [1] 岩屋毅 <small>いわやたけし</small>      | [2] 塩 |
| エ | [1] 岩屋毅                            | [2] 米 |

問3 2025年6月23日、沖縄は太平洋戦争末期の沖縄戦から[ 1 ]年の「慰霊の日いれい」でした。  
[ 2 ]総理大臣は戦没者追悼式せんぼつしやつうしきであいさつし、亡くなった人たちの無念を決して忘れず平和で心豊かに暮らせる世の中の実現に向けて取り組む決意を強調しました。

- |   |        |                                |
|---|--------|--------------------------------|
| ア | [1] 80 | [2] 石破茂 <small>いしばしげる</small>  |
| イ | [1] 80 | [2] 岸田文雄 <small>きしだふみお</small> |
| ウ | [1] 90 | [2] 石破茂                        |
| エ | [1] 90 | [2] 岸田文雄                       |

問4 2025年8月5日、[ 1 ]のゼレンスキー大統領のオレナ夫人が、[ 2 ]万博の会場で、同国の「ナショナルデー」の式典に出席し、ロシアによる侵攻後の日本や各国の支援に感謝の意を表しました。

- |   |           |           |
|---|-----------|-----------|
| ア | [1] イスラエル | [2] 愛知    |
| イ | [1] イスラエル | [2] 大阪・関西 |
| ウ | [1] ウクライナ | [2] 愛知    |
| エ | [1] ウクライナ | [2] 大阪・関西 |

問5 2025年のノーベル賞において、日本から2名の研究者が受賞しました。10月6日に生理学・医学賞で坂口志文氏が、10月8日に〔 1 〕賞で〔 2 〕氏が受賞者として発表され、日本の科学研究力の高さを世界に示す結果となりました。

- |   |        |                                |
|---|--------|--------------------------------|
| ア | 〔1〕 平和 | 〔2〕 北川進 <small>きたがわすすむ</small> |
| イ | 〔1〕 平和 | 〔2〕 本庶佑 <small>ほんじょたすく</small> |
| ウ | 〔1〕 化学 | 〔2〕 北川進                        |
| エ | 〔1〕 化学 | 〔2〕 本庶佑                        |

6 ある小学校の社会の授業で、班ごとに調べ学習を行いました。それぞれの調べ学習の内容について、各問いに答えなさい。

問1 1班は日本国憲法について調べました。次の発表中の〔 A 〕～〔 C 〕に入る文（①～⑥）の組み合わせとして、正しいものはどれですか。下のア～カのうちから一つ選び、記号で答えなさい。

発表

日本国憲法の前文には「日本国民は、わたしたちの子孫のために、世界の人々と仲良く協力し合い、自由のもとらす恵みを国土の全体にわたって確かなものにし、〔 A 〕再び戦争の災いがおこることのないように決意し、〔 B 〕を宣言して、この憲法を定める。」と書いてあります。

この前文の考え方をふまえ、日本国憲法には三つの原則があり、憲法全体にこれらの原則がとらぬかれています。そのうちのひとつの原則によって、だれもが生まれながらもっている〔 C 〕されています。

- ① 政府の行為によって
- ② 天皇の権限によって
- ③ 主権が国民にあること
- ④ 天皇を中心とした政治が行われること
- ⑤ 子どもに普通教育を受けさせる義務が規定
- ⑥ 人間らしく生きる権利が保障

- |   |      |      |      |
|---|------|------|------|
| ア | A. ① | B. ③ | C. ⑤ |
| イ | A. ① | B. ③ | C. ⑥ |
| ウ | A. ① | B. ④ | C. ⑥ |
| エ | A. ② | B. ③ | C. ⑤ |
| オ | A. ② | B. ④ | C. ⑤ |
| カ | A. ② | B. ④ | C. ⑥ |

問2 2 班は 2025 年 7 月 20 日に行われた参議院選挙について話し合いをしました。次の会話中の  
 ～  に入る語句または文（あ～か）の組み合わせとして、正しいものはどれですか。  
 下のア～クのうちから一つ選び、記号で答えなさい。

えいと 今回の参議院選挙の選挙区の投票率は、58.51%と前回の選挙より 6.46 ポイント高くなりました。

つむぎ 参議院は 年ごとに、定数 議席の半数が選挙されることを授業で習いましたね。

すすむ そうですね。ただ、今回の参議院選挙は東京選挙区の非改選欠員 1 名を加えたので、通常より 1 議席多いことが新聞に書いてありました。

えいと よく新聞を読んでいますね。

すすむ 自民党と公明党が選挙前の 66 議席から大幅に減らし、目標としていた過半数の維持に必要な 50 議席に届かず、衆議院に続き参議院でも少数 になったことを知っていますか。

つむぎ 知らなかったです。もっとくわしく調べてみます。

に入る語句

あ 6                      い 3

に入る文

う 248                      え 465

に入る語句

お よと与党                      か やと野党

	ア	イ	ウ	エ	オ	カ	キ	ク
A	あ	あ	あ	あ	い	い	い	い
B	う	う	え	え	う	う	え	え
C	お	か	お	か	お	か	お	か

問3 3班は市民の願いを実現する政治について調べました。次の資料と発表中の□A・□Bに入る語句の組み合わせとして、正しいものはどれですか。下のア～エのうちから一つ選び、記号で答えなさい。

資料

男性	年齢層	女性
公共交通・道路 (34.4%)	18～29 才	□A 支援 (47.8%)
□A 支援 (55.8%)	30～39 才	□A 支援 (67.2%)
□A 支援 (49.6%)	40～49 才	□A 支援 (45.9%)
防災・治水 (46.2%)	50～59 才	高齢者福祉 (55.4%)
高齢者福祉 (59.6%)	60～69 才	高齢者福祉 (62.8%)
高齢者福祉 (71.9%)	70 才以上	高齢者福祉 (73.7%)

(令和3年度さいたま市民意識調査より)

発表

資料は、さいたま市民が「今後力を入れて取り組んでほしい」と答えた取り組みの年代・男女別の1位を表にしたものです。この資料から特に40代までの市民の多くが、「□Aに力を入れて取り組んでほしい」と願っていることがわかります。埼玉県さいたま市には、年間20万人以上が利用する「あいぱれっと」という、□Aをしている年代の多くの人々の願いによってできた□B施設があります。この施設は市役所によって運営されています。

- ア A. 子育て B. 公共      イ A. 子育て B. 民間  
ウ A. 介護 B. 公共      エ A. 介護 B. 民間

問4 4班は東日本大震災の復旧・復興に向けた国の支援について調べました。次の発表中の( )に入る語句をカタカナで答えなさい。

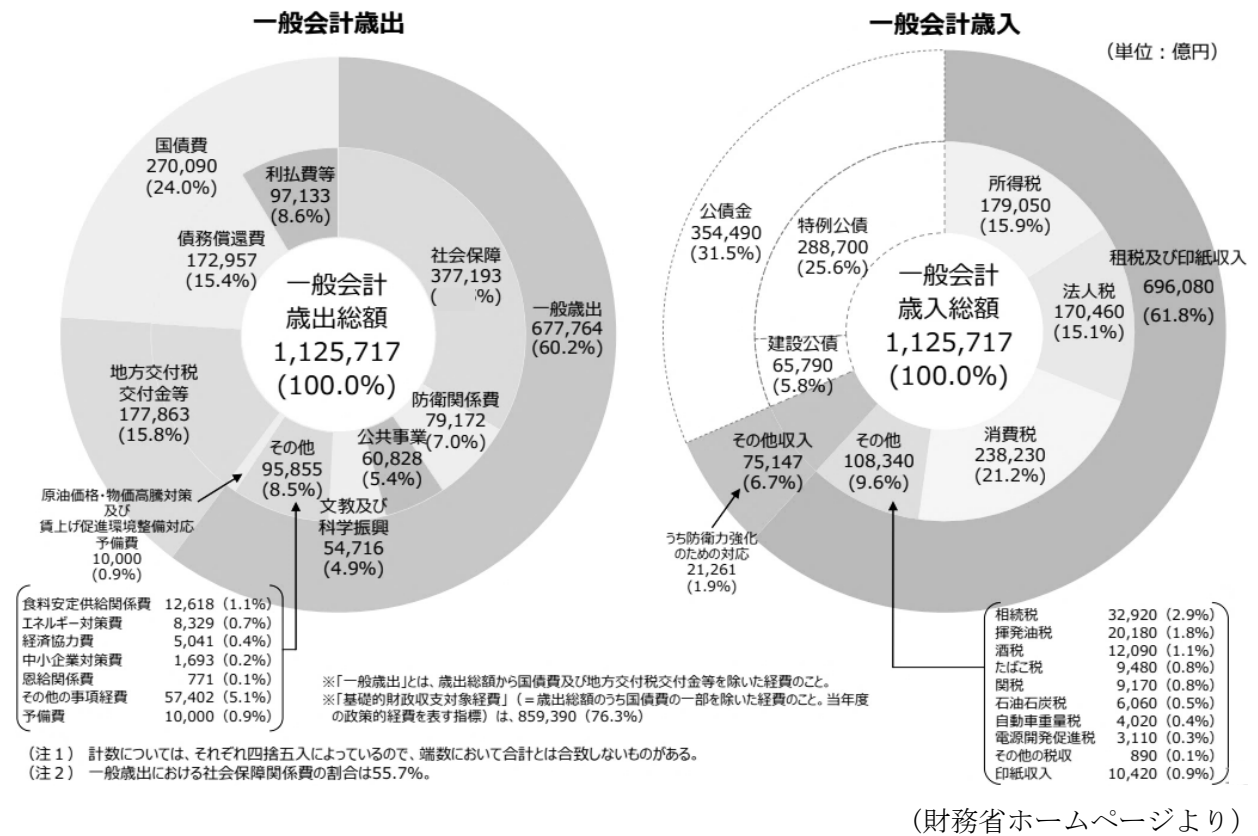
発表

国(政府)は、県や市と協力して復旧をすすめるために、国会での話し合いを経て、第一次補正予算を成立させました。この予算をつかって、被災者の切実な願いであった電気・ガス・水道などの( )の復旧や、仮設住宅の建設が実現しました。

問5 5班は令和6年度の国の予算について調べました。次の資料をもとに、<sup>さいしゆつ</sup>歳出・<sup>さいにゆう</sup>歳入の構成について発表しました。この発表中の□A・□Bに入る語句と、□Cに入る数字との組み合わせとして、正しいものはどれですか。下のア～カから一つ選び、記号で答えなさい。

資料

令和6年度一般会計予算 歳出・歳入の構成



発表

歳入のうち税収は 69 兆 6,080 億円となっています。その税収の中でも最も割合が高いのが、□A税です。歳出では、□Bの影響で社会保障費がおよそ□C%しめています。社会保障費がどのようなことに使われるのか、さらに調べたいと思います。

- |   |       |        |       |
|---|-------|--------|-------|
| ア | A. 所得 | B. 高齢化 | C. 18 |
| イ | A. 所得 | B. 高齢化 | C. 33 |
| ウ | A. 所得 | B. 少子化 | C. 18 |
| エ | A. 所得 | B. 少子化 | C. 33 |
| オ | A. 消費 | B. 高齢化 | C. 18 |
| カ | A. 消費 | B. 高齢化 | C. 33 |
| キ | A. 消費 | B. 少子化 | C. 18 |
| ク | A. 消費 | B. 少子化 | C. 33 |